

2019 年国考笔试行测（地市级）试题及解析（考生回忆版/部分）

第一部分 常识判断

1. 党的十八大以来，以习近平同志为核心的党中央，紧密结合新的时代条件和实践要求，以全新的视野深化对共产党执政规律，社会主义建设规律，人类社会发展规律的认识，创立了习近平新时代中国特色社会主义思想，其核心要义是：

- A. 坚持和发展中国特色社会主义
- B. 中国特色社会主义进入了新时代
- C. 实现社会主义现代化和中华民族伟大复兴
- D. 坚持以人民为中心的发展思想

【答案】A

2. 根据党的十九大报告，下列说法不准确的是：

- A. 发展是解决我国一切问题的基础和关键
- B. 完善就业保障是中华民族永续发展的千年大计
- C. 文化自信是一个国家、一个民族发展中更基本、更深沉、更持久的力量
- D. 带领人民创造美好生活是我们党始终不渝的奋斗目标

【答案】B

3. 中国特色社会主义是改革开放以来党的全部理论和实践的主题，是党和人民历尽千辛万苦、付出巨大代价取得的根本成就。中国特色社会主义最本质的特征是：

- A. 依法治国
- B. 人民当家作主
- C. 实行人民代表大会制度
- D. 中国共产党领导

【答案】D

4. 下列与扶贫有关的说法正确的是：

- A. 习近平总书记首次提出了“精准扶贫”的理念
- B. 扶贫工作坚持扶贫同扶志相结合，“大水漫灌”与“精准滴灌”相结合
- C. 全面发展高新技术产业是《“十三五”脱贫攻坚计划》提出的一项重要举措
- D. 脱贫目标是到 2035 年稳定实现现行标准下农村贫困人口“两不愁、三保障”

【答案】A

5. 根据我国宪法和有关法律，下列国家机关的哪一做法不符合规定？

- A. 某市监察委员会决定对涉嫌行贿的某公司法定代表人实行留置
- B. 某自治州人民代表大会常务委员会制定城市环境管理的地方性法规



- C. 某县人民法院执行民事案件时要求被执行人提供手机微信记录
- D. 中国证券监督管理委员会依法制定有关上市公司的监管规章

【答案】C

6. 下列与我国军事国防相关的说法错误的是：

- A. 大力发展军民融合是维护国家主权和安全的战略基石
- B. 新形势下我军的军事战略方针是积极防御
- C. 中国位于海洋地缘战略区和欧亚大陆地缘战略区的交接处
- D. 维护地区和世界和平是我国军队担负的主要战略任务之一

【答案】A

7. 关于人民陪审员，下列说法符合法律规定的是：

- A. 陪审员小李所在的单位因其在工作日参加审判活动而扣发他的奖金
- B. 公证员小张被某县人民法院选聘为人民陪审员
- C. 陪审员小赵在七人合议庭审理的案件中对法律适用参加表决
- D. 陪审员小刘参加审判活动，人民法院按实际工作日对其给予补助

【答案】D

8. 下列犯罪行为应以盗窃罪论处的是：

- A. 甲窃得价值 5000 元的手机一部，被发现后持械抗拒抓捕
- B. 乙窃得同事的信用卡一张，并用其消费 10000 元
- C. 丙在火车上捡到价值 50000 元的提包一只，经失主催要后拒不归还
- D. 丁为某私营公司的销售主管，在销售过程中私自将价值 50000 元的产品据为己有

【答案】B

9. 关于我国诉讼程序中的鉴定，下列说法错误的是：

- A. 对于鉴定所形成的结果，当事人有异议的可申请重新鉴定
- B. 鉴定人在鉴定意见上的签名或盖章均具有法律效力
- C. 民事诉讼中，基于意思自治原则，鉴定只能由当事人申请
- D. 刑事诉讼中，鉴定人是否有必要出庭由人民法院决定

【答案】C

10. 垄断协议分为横向垄断协议和纵向垄断协议。下列哪一垄断协议与其他三项不同？

- A. 甲市销售额排名前五的手机销售门店召开会议，指定下半年各类手机产品的最低价格
- B. 乙市四家最大的面包店把全市五十家面包店组织在一起，协议指定采购某品牌面粉
- C. 丙市七家米粉厂互相约定，各米粉厂只能在划定的区域内销售米粉
- D. 丁市某电器生产公司和八家电器销售公司约定对外批发电器的销售价格

【答案】D

11. 某有限责任公司有股东甲、乙、丙、丁、戊 5 人，注册资本为 200 万元，其中甲出资 10 万元、乙



20 万元、丙 10 万元、丁 10 万元、戊 150 万元。公司运行 3 年后，效益良好，甲、乙、丙、丁在戊出差期间自行商量后通过了进一步增加注册资本 50 万元的决议。下列说法正确的是：

- A. 甲、乙、丙、丁通过的决议有效
- B. 该增资决议应由全体股东一致同意
- C. 戊可以自行决定是否增加注册资本，无需经过甲乙丙丁的同意
- D. 戊可以向人民法院起诉确认该增资决议无效

【答案】D

12. 下列情形中，用人单位不需要支付经济补偿金的是：

- A. 甲公司提出并与张某协商一致解除劳动合同
- B. 乙公司未依法为李某提供劳动保护，李某提出解除劳动合同
- C. 丙公司生产经营发生严重困难而解除与孙某的劳动合同
- D. 丁公司于劳动合同期满后提高待遇要求续签，赵某拒绝

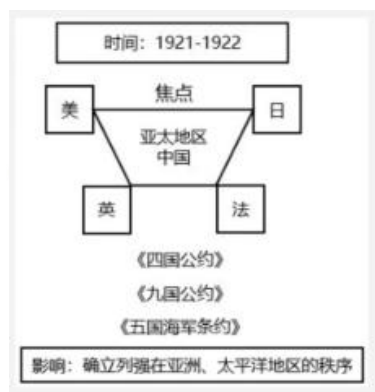
【答案】D

13. 有关经济学常识，下列说法错误的是：

- A. 国民收入统计中包括退休金
- B. 货币发行是中央银行的负债业务
- C. 公共物品无法通过市场机制来调节供求
- D. 春节前后的物价上涨不属于通货膨胀

【答案】A

14. 这幅图反映了某次重要会议，这次会议可能是：



- A. 巴黎和会
- B. 华盛顿会议
- C. 万隆会议
- D. 雅尔塔会议

【答案】B

15. 关于文学作品中的典故，下列解释错误的是：



- A. “蓬山此去无多路，青鸟殷勤为探看”中的“青鸟”指的是信使
B. “相顾无相识，长歌怀采薇”中的“采薇”指的是建功立业的抱负
C. “劳歌一曲解行舟，红叶青山水急流”中的“劳歌”指的是送别歌曲
D. “忆君初得昆山玉，同向扬州携手行”中的“昆山玉”指的是杰出人才

【答案】B

16. 关于我国的油料作物，下列说法错误的是：

- A. 芝麻喜凉，果实有黑、白之分，山东省产量最高
B. 花生喜温耐瘠，适宜种在排水良好的沙质土壤中
C. 大豆喜温，生长发育期间低温会延迟开花成熟
D. 油菜抗寒力较强，是我国分布最广的油料作物

【答案】A

17. 下列地理分界线对应正确的是：

- A. 横断山脉——内流区和外流区
B. 本初子午线——东半球和西半球
C. 200 毫米等降水量线——农耕区和畜牧业区
D. 祁连山脉——河西走廊和柴达木盆地

【答案】D

18. 关于核磁共振，下列说法错误的是：

- A. 核磁共振技术可以进行地下水探测
B. 核磁共振技术常用于脑肿瘤的检测
C. 核磁共振会产生电离辐射影响人体健康
D. 带有心脏起搏器的病人不能做核磁共振

【答案】C

19. 钢是主要由铁元素和碳元素组成的①合金，钢的含碳量②大于生铁。在钢中加入其它元素能够继续改善钢的性质，例如，加入锰元素主要增加钢的③强度。在钢的锻造中，淬火可以实现其④快速冷却。这段文字中画线部分错误的是：

- A. ①
B. ②
C. ③
D. ④

【答案】B

20. 某人扁桃体化脓，医生建议其静脉注射头孢，药液从其手背静脉到达扁桃体患处所经过的途径是：上肢静脉→右心房→①→②→左心房→③→④→动脉→扁桃体毛细血管(患处)。依次填入①②③④正确的是：

- A. 肺循环；右心室；左心室；主动脉
- B. 左心室；肺循环；主动脉；右心室
- C. 主动脉；右心室；左心室；肺循环
- D. 右心室；肺循环；左心室；主动脉

【答案】D

第二部分 言语理解与表达

21. 《“健康中国 2030”规划纲要》中提出，要努力实现从以治病为中心向以健康为中心转变，从以“治已病”为中心向以“治未病”为中心转变，从疾病管理向健康管理转变，在这种背景下，中医药_____。

填入画横线部分最恰当的一项是：

- A. 举足轻重
- B. 不可或缺
- C. 大有可为
- D. 大有裨益

【答案】C

22. 科学精神的核心是求真务实，我们的一切实践都需符合规律、切合实际。规律指引下的世界变动不居，我们不能_____，应敢于质疑、善于包容、勇于创新。

填入画横线部分最恰当的一项是：

- A. 因循守旧
- B. 沾沾自喜
- C. 妄自菲薄
- D. 刚愎自用

【答案】A

23. 阿道司·赫胥黎在《美丽新世界》中描绘了 2532 年一个依赖生殖技术的人类社会。在那里，人文跟不上科技的发展，人类的“拜物教”越来越兴盛：认为医学可以解决一切病痛，科技可以弥补人文的鸿沟。事实上，这无异于_____。

填入画横线部分最恰当的一项是：

- A. 饮鸩止渴
- B. 缘木求鱼
- C. 镜花水月
- D. 抱薪教火

【答案】B

41. 染色食品曝光后，许多人表示无法理解：食品色素仅仅是改变颜色，只有“悦目”的作用，为什么一定要染色呢？事实并非如此。食物的颜色会改变人们对食物的味觉体验，进而影响对食物的选择。现代食品技术中有一个领域，就是专门研究食物的各种性质如何影响人们对食物的感受的。成分和加工过程

完全相同的食物，仅仅是所采用的颜色不同，就会导致人们对它们的评价显著不同，还会影响人们对食物的选择。

最适合做这段文字标题的是：

- A. 你不知道的食品添加剂
- B. 食品色素背后的心理学
- C. 哪些因素影响食物味道
- D. 现代食品制作中的染色技术

【答案】B

47. 人口向城市迁移并不一定会推动经济增长和生产率的提高。如果人口流入城市，却没有优质的就业作为依托，就会导致城市的贫民窟化。只有经济结构根据经济发展阶段进行转换，经济才会增长，并创造良好的就业机会，收入才会随之增加，人口才会向城市迁移。所以，_____。

填入画线部分最恰当的一句是：

- A. 人口向城市迁移是经济发展的必然趋势
- B. 人口迁移率是衡量经济发展水平的重要指标
- C. 只有调整经济结构，才能增加城市中的就业机会
- D. 城镇化其实是经济发展的结果，而非前提

【答案】D

第三部分 数量关系

在这部分试题中，每道题呈现一段表述数字关系的文字，要求你迅速、准确地计算出答案。

请开始答题：

61. 有 100 名员工去年和今年均参加考核，考核结果分为优、良、中、差四个等次。今年考核结果为优的人数是去年的 1.2 倍。今年考核结果为良及以下的人员占比比去年低 15 个百分点。问两年考核结果均为优的人数至少为多少人？

- A. 55
- B. 65
- C. 75
- D. 85

【答案】B

62. 从 A 市到 B 市的机票如果打 6 折，包含接送机出租车交通费 90 元，机票税费 60 元在内的总乘机成本是机票打 4 折时总乘机成本的 1.4 倍，问从 A 市到 B 市的全价机票价格(不含税费)为多少元？

- A. 1200
- B. 1250
- C. 1500
- D. 1600

【答案】C



63. 小张和小王在同一个学校读研究生，每天早上从宿舍到学校有 6:40、7:00、7:20 和 7:40 发车的 4 班校车。某星期一到周三，小张和小王都坐班车去学校，且每个人在 3 天中乘坐的班车发车时间都不同。问这 3 天小张和小王每天都乘坐同一趟班车的概率在：

- A. 3%以下
- B. 3%-4%之间
- C. 4%-5%之间
- D. 5%以上

【答案】C

64. 甲车上午 8 点从 A 地出发匀速开往 B 地，出发 30 分钟后乙车从 A 地出发以甲车 2 倍的速度前往 B 地，并在距离 B 地 10 千米时追上甲车。如乙车 9 点 10 分到达 B 地，问甲车的速度为多少千米/小时？

- A. 30
- B. 36
- C. 45
- D. 60

【答案】A

65. 甲和乙进行 5 局 3 胜的乒乓球比赛，甲每局获胜的概率是乙每局获胜概率的 1.5 倍。问以下哪种情况发生的概率最大？

- A. 比赛在 3 局内结束
- B. 乙连胜 3 局获胜
- C. 甲获胜且两人均无连胜
- D. 乙用 4 局获胜

【答案】A

66. 有甲、乙、丙三个工作组，已知乙组 2 天的工作量与甲、丙共同工作 1 天的工作量相同。A 工程如由甲、乙组共同工作 3 天，再由乙、丙组共同工作 7 天，正好完成。如果三组共同完成，需要整 7 天。B 工程如丙组单独完成正好需要 10 天，问如由甲、乙组共同完成，需要多少天？

- A. 不到 6 天
- B. 6 天多
- C. 7 天多
- D. 超过 8 天

【答案】C

67. 某单位有 2 个处室，甲处室有 12 人，乙处室有 20 人。现在将甲处室最年轻的 4 人调入乙处室，则乙处室的平均年龄增加了 1 岁，甲处室的平均年龄增加了 3 岁。问在调动之前，两个处室的平均年龄相差多少岁？

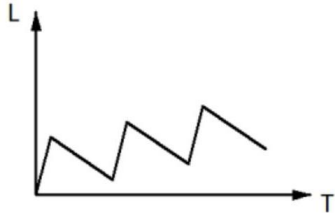
- A. 8
- B. 12
- C. 14
- D. 15



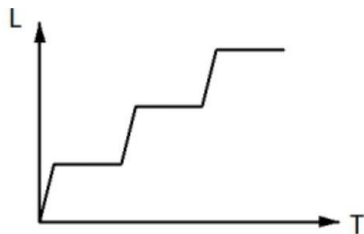
【答案】B

68. 甲和乙两条自动化生产线同时生产相同的产品，甲生产线单位时间的产量是乙生产线的 5 倍，甲生产线每工作 1 小时就需要花 3 小时时间停机冷却而乙生产线可以不间断生产。问以下哪个坐标图能准确表示甲、乙生产线产量之差 (纵轴 L) 与总生产时间 (横轴 T) 之间的关系？

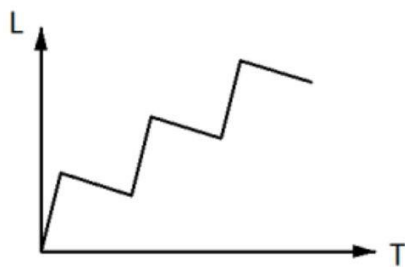
A.



C.



D.



【答案】A

69. 某单位要求职工参加 20 课时线上教育，其中政治理论 10 课时，专业技能 10 课时，可供选择的政治理论课共 8 门，每门 2 课时；可供选择的职业技能课共 10 门，其中 2 课时的有 5 门，1 课时的有 5 门，问可选择的课程组合有多少种？

A. 5656

B. 5600



C. 1848

D. 616

【答案】A

70. 花圃自动浇水装置的规则设置如下：

①每次浇水在中午 12:00-12:30 之间进行；

②在上次浇水结束后，如连续 3 日中午 12:00 气温超过 30 摄氏度，则在连续第 3 个气温超过 30 摄氏度的日子中午 12:00 开始浇水；

③如在上次浇水开始 120 小时时候仍不满足条件②，则立刻浇水。

已知 6 月 30 日 12:00-12:30 该花圃第一次自动浇水，7 月份该花圃共自动浇水 8 次，问 7 月至少有多少天中午 12:00 的气温超过 30 摄氏度？

A. 18

B. 20

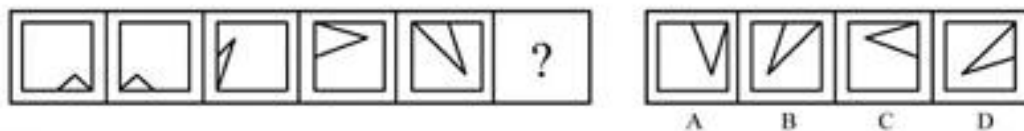
C. 12

D. 15

【答案】D

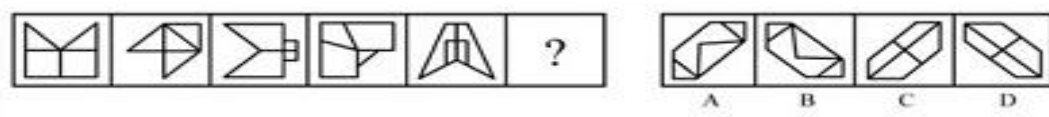
第四部分 判断推理

71. 从所给的四个选项中，选择最合适的一个填入问号处，使之呈现一定的规律性：



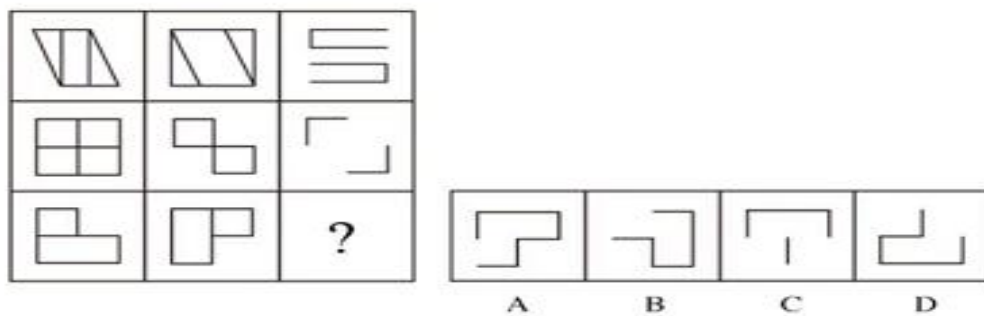
【答案】B

72. 从所给的四个选项中，选择最合适的一个填入问号处，使之呈现一定的规律性：



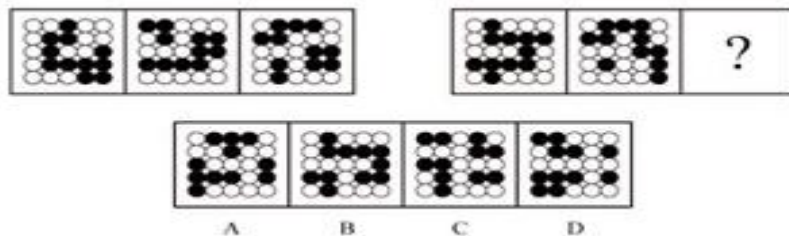
【答案】B

73. 从所给的四个选项中，选择最合适的一个填入问号处，使之呈现一定的规律性：



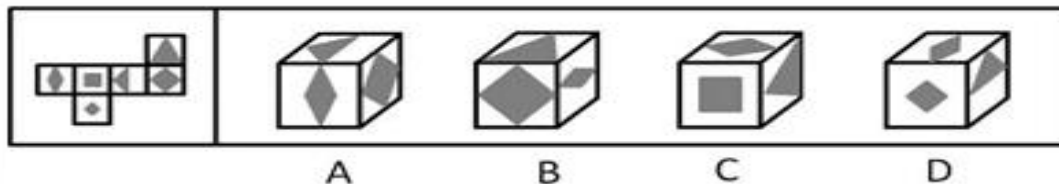
【答案】D

74. 从所给的四个选项中，选择最合适的一个填入问号处，使之呈现一定的规律性：



【答案】A

75. 左边给定的是正方形的外表面展开图，下面那一项能由它折叠而成？



【答案】C

82. 严格指示词是指一个语言表达式所具有的如下性质：它所指示的对象不会随着该表达式被使用的具体情境而发生改变，这些情境通常包括表达式的使用主体、表达式被使用的时间、地点、世界状态等等。根据上述定义，下列属于严格指示词的是：

- A. 现任联合国秘书长
- B. 世界上身高最高的人
- C. 最小的素数
- D. 经常坐在教室第一排正中间的同学

【答案】C

83. 同病异治是指中医对相同疾病采取不同的治法，达到治病求本的治疗效果；异病同治是指不同的疾病在发展过程中出现性质相同的症状，因而可以采用同样的中医治疗方法。根据上述定义，下列属于异病同治的是：

- A. 久痢脱肛和胃下垂，均为中气下陷之证，可用升提中气之法治疗



- B. 外感风热，内有蕴热的表里俱实之证，宜解表和攻里之药同时并用
- C. 麻疹初期疹未出透，治疗宜宣肺透疹；中期肺热明显，治疗宜清热解毒
- D. 风热感冒宜用辛凉解表法治疗，风寒感冒宜用辛温解表法治疗

【答案】A

84. 物候现象是生物随着气候一年四季的周期性变化而发生的相应季节性变化的现象。影响物候现象的因素主要包括海拔的差异、经度的差异、纬度的差异和时间的差异。

下列诗句反映的物候现象受到海拔差异影响的是

- (A) 日出江花红胜火，春来江水绿如蓝
- (B) 竹外桃花三两枝，春江水暖鸭先知
- (C) 人间四月芳菲尽，山寺桃花始盛开
- (D) 羌笛何须怨杨柳，春风不度玉门关

【答案】C

91. 分母：除数

- A. 内角：外角
- B. 加减法：乘法
- C. 横坐标：纵坐标
- D. 百分比：百分率

【答案】D

93. 刻舟：求剑

- A. 里应：外合
- B. 掩耳：盗铃
- C. 打草：惊蛇
- D. 指桑：骂槐

【答案】B

101. 一般来说，塑料极难被分解，即使是较小的碎片也很难被生态系统降解，因此它造成的环境破坏十分严重。近期科学家发现，一种被称为蜡虫的昆虫能够降解聚乙烯，而且速度极快。如果使用生物技术复制蜡虫降解聚乙烯，将能够帮助我们有效清理垃圾填埋场和海洋中累积的塑料垃圾。

以下哪项如果为真，不能支持上述结论？

- A. 世界各地的塑料垃圾的主要成分是聚乙烯
- B. 蜡虫的确能够破坏聚乙烯塑料的高分子链
- C. 聚乙烯被蜡虫降解后的物质对环境的影响尚不明确
- D. 现有科技手段能够将蜡虫降解聚乙烯的酶纯化出来

【答案】C

第五部分 资料分析



所给出的图、表、文字或综合性资料均有若干个问题要你回答。你应根据资料提供的信息进行分析、比较、计算和判断处理。

请开始答题：

一、根据以下资料，回答 111—115 题。

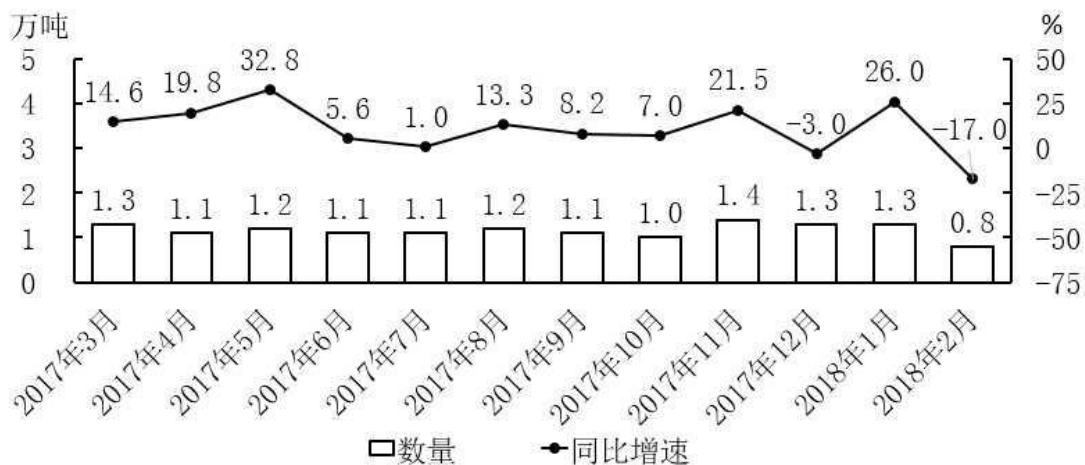


图 1 2017年3月~2018年2月全国进口药品数量及同比增速

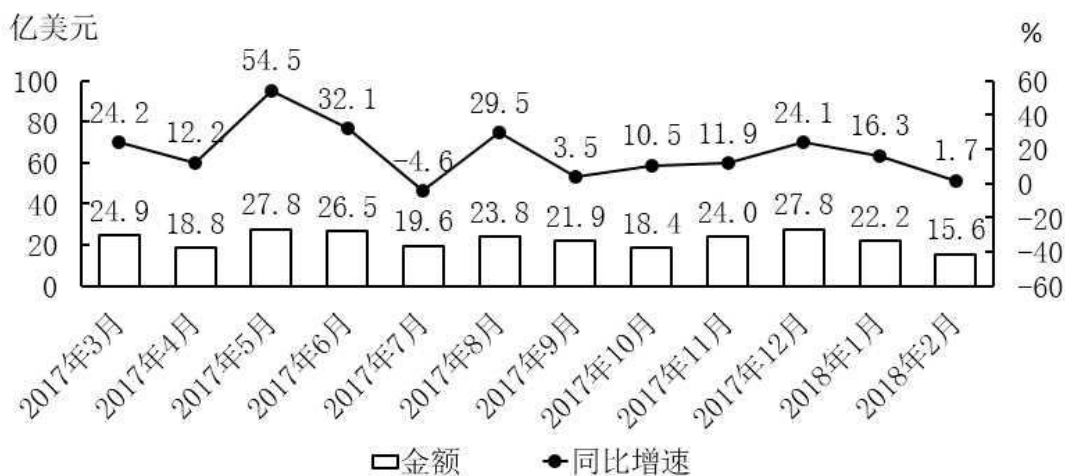


图 2 2017年3月~2018年2月全国进口药品金额及同比增速

111. 2017 年第三季度，全国平均每吨进口药品单价约为多少万美元？

- A. 2 B. 19 C. 8 D. 96

【答案】B

112. 2017 年下半年，全国进口药品数量同比增速低于上月水平的月份有几个？

- A. 2 B. 3 C. 4 D. 5

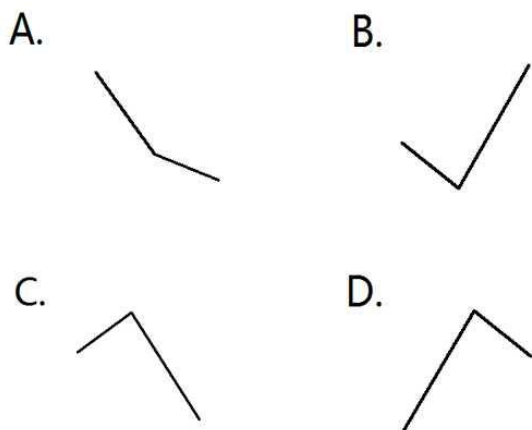
【答案】C

113. 2016 年 5 月，全国进口药品金额环比增速：

- A. 超过 100% B. 在 40%-100%之间 C. 在 0%-40%之间 D. 低于 0%

【答案】C

114. 以下折线图中，能准确反映 2017 年第四季度各月全国进口药品金额环比增长率的是：



A. A B. B C. C D. D

【答案】D

115. 能够从上述资料中推出的是：

- A. 2016 年下半年，全国进口药品数量低于 1 万吨的月份仅有 2 个
- B. 2017 年 11 月，全国平均每吨进口药品单价低于上年同期水平
- C. 2017 年第二季度，全国进口药品金额超过 75 亿美元
- D. 2017 年 1 月，全国进口药品金额超过 20 亿美元

【答案】B

三、根据以下资料，回答 121—125 题。

2017年1月~2018年4月全国钓鱼网站处理情况

时间	处理数量（个）		处理数量占比（%）	
	CN域名	非CN域名	支付交易类	金融证券类
2017年1月	42	1870	64.9	34.4
2017年2月	91	860	52.6	45.8
2017年3月	76	2019	80.5	18.9
2017年4月	32	761	49.4	50.3
2017年5月	43	785	60.4	39.6
2017年6月	19	810	66.0	33.3
2017年7月	33	1445	53.0	46.8
2017年8月	58	4675	87.3	12.4
2017年9月	52	2572	83.2	15.9
2017年10月	87	2246	78.2	21.2
2017年11月	40	2626	83.6	13.5
2017年12月	302	2693	79.8	19.1
2018年1月	204	2598	79.3	20.2
2018年2月	58	641	46.6	51.9
2018年3月	254	3230	77.4	22.3
2018年4月	229	1749	73.2	25.8



121. 2017 年，全国处理的支付交易类钓鱼网站数量超过金融证券类钓鱼网站 2 倍的月份有几个？

- A. 5 B. 6 C. 7 D. 8

122. 2018 年第一季度全国处理钓鱼网站总数：

- A. 不到 5000 个
B. 在 5000~6000 个之间
C. 在 6001~7000 个之间
D. 超过 7000 个

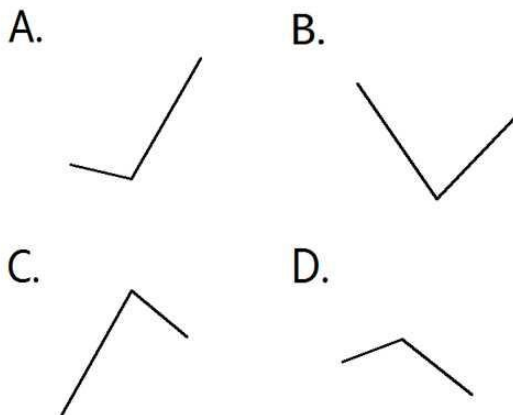
【答案】C

123. 2017 年下半年，金融证券类和支付交易类钓鱼网站占当月处理钓鱼网站总数比重最低的月份是：

- A. 8 月
B. 9 月
C. 10 月
D. 11 月

【答案】D

124. 下列折线图中，能准确反映 2018 年第一季度 CN 域名钓鱼网站处理数量同比增速变化趋势的是：



- B. A B. B C. C D. D

【答案】B

125. (单选题)能够从上述资料中推出的是：

- A. 2018 年 3 月全国支付交易类钓鱼网站处理数量超过 2500 个
B. 2017 年第一季度全国 CN 域名钓鱼网站处理数量占同期钓鱼网站处理总数的一成以上
C. 2018 年 2 月全国支付交易类钓鱼网站处理数量环比下降了不到 50%
D. 2017 年全国处理的 CN 域名钓鱼网站中，超过了一半的网站是在 12 月处理的

【答案】A